



**PENILAIAN AKHIR SEMESTER  
MTs AL WASHLIYAH INSANUL KAMIL  
TAHUN PELAJARAN 2022 - 2023**

Nama : Mata Pelajaran : Bahasa Arab  
Kelas :

**A. Pilihan Berganda**

١... هذا مسجد  
ا. واسعة  
ب. كبيرة  
ج. نظيف  
د. جميلة

٢... معنى "طالب"  
ا. Guru.  
ب. Teman.  
ج. Dia.  
د. Murid.

٣: .....  
احمد: الحمد لله انا بخير  
ا. ما اسمك؟  
ب. اهلا بك  
ج. كيف حالك  
د. مساء النور

٤... معنى الكلمة "احمر"  
ا. Merah.  
ب. Putih.  
ج. Hijau.  
د. Hitam.

٥... معنى الكلمة "أسود"  
ا. Merah.  
ب. Putih.  
ج. Hijau.  
د. Hitam.

٦. هذا صاحبي... جمدان  
ا. اسمك  
ب. اسمه  
ج. اسمها  
د. اسمي

٧. عمر: صباح الخير  
.....  
ا. صباح النور  
ب. اهلا بك  
ج. كيف حالك  
د. مساء النور

٨. معنى الكلمة "واسع"

Bersih.

ب. Baru.

ج. Besar.

د. Luas.

٩. هو... الى المدرسة

ا. اذهب

ب. تذهب

ج. يذهب

د. نذهب

١٠. اسمك ياخي؟

ا. اين

ب. كم

ج. هل

د. ما

١١. هذا احمد...طالب

ا. هم

ب. ذلك

ج. هي

د. هو

١٢. Apa yang dimaksud dengan dhamir?

ا. Kata sambung.

ب. Kata ganti.

ج. Kata sifat.

د. Kata kerja.

١٣. انا...الى المدرسة

ا. نذهب

ب. تذهب

ج. يذهب

د. اذهب

١٤. .... انت طالب؟ نعم انا طالب

ا. من

ب. ماذا

ج. هل

د. ما

١٥. ... معنى الكلمة "مدرسة"

ا. Sekolah.

ب. Masjid.

ج. Kantin.

د. Rumah.

١٦. ... هذه

ا. قلم

ب. مسجد

ج. سبورة

د. كتاب

١٧. انت... الى المدرسة

- ا. اذهب
- ب. تذهب
- ج. نذهب
- د. يذهب

١٨... المدرسة

- ا. واسع
- ب. كبيرة
- ج. نظيف
- د. جميل

١٩... تلك

- ا. مكتب
- ب. مقصف
- ج. فصل
- د. مسطرة

معنى الكلمة "نظيف" ٢٠....

- Baru.
- Pandai.
- Bersih.
- Besar.

## B. Essay tes

Isilah titik-titik dalam tabel berikut sesuai dengan dhamir mufrad muttashil kepemilikan (لي- لها - لك - لك)

رقم	كلمة	انا	هو	هي	انت
١	كِتَابٌ	كِتَابِي	كِتَابُهُ	كِتَابُهَا	كِتَابُكَ
٢	قَلَمٌ	....	....	....	....
٣	فَصْلٌ	....	....	....	....
٤	مَكْتَبٌ	....	....	....	....
٥	بَيْتٌ	....	....	....	....



**PENILAIAN AKHIR SEMESTER**  
**MTs AL WASHLIYAH INSANUL KAMIL**  
**TAHUN PELAJARAN 2022 - 2023**

Nama : Mata Pelajaran : Bahasa Indonesia

Kelas :

1. Teks yang berfungsi untuk menggambarkan suatu objek yang diamati merupakan jenis teks...
  - a. Deskripsi
  - b. Imajinasi
  - c. fiksi
  - d. khayalan
2. Objek yang digambarkan dalam teks deskripsi bersifat ...
  - a. General
  - b. Umum
  - c. Khusus
  - d. imajinatif
3. Yang tidak termasuk struktur teks deskripsi yaitu ...
  - a. Deskripsi
  - b. Judul
  - c. kesimpulan
  - d. adjektiva
4. 'Matahari terbit' dalam bahasa Inggris yaitu...
  - a. Sunlight
  - b. Sunblock
  - c. sunrise
  - d. sunset
5. Kata di bawah ini yang menggunakan *di* sebagai preposisi adalah...
  - a. Ditumbuhi
  - b. Dimakan
  - c. di sepanjang pantai
  - d. dibawa
6. Beberapa pondokan tertata rapi di sepanjang pinggir kolam.  
Kata yang merupakan kata sifat pada kalimat di atas adalah ...
  - a. Beberapa
  - b. Pinggir
  - c. di sepanjang
  - d. rapi
7. Berikut merupakan ragam teks naratif, *kecuali* ....
  - a. Cerita fantasi
  - b. Cerita pendek
  - c. novel
  - d. puisi
8. Teks narasi bertujuan...
  - a. Menceritakan suatu peristiwa
  - b. Menggambarkan suatu peristiwa
  - c. Menjelaskan terjadinya suatu peristiwa
  - d. Memaparkan suatu peristiwa
9. Salah satu jenis teks narasi yang menceritakan peristiwa/kejadian yang tidak masuk akal dan tidak ditemukan dalam realitas kehidupan sehari-hari disebut...
  - a. Cerita absurd
  - b. Cerita fantasi
  - c. cerita fiksi ilmiah
  - d. cerita pendek
10. Cerpen merupakan singkatan dari ...
  - a. Cerita penting
  - b. Cerita pendek
  - c. cerita penggalan
  - d. cerita pengamatan
11. Teks narasi terdapat istilah unsure intrinsic dan unsure ekstrinsik yang membangun cerita.  
Latar/*setting* merupakan salah satu unsure intrinsic.  
Latar atau *setting* itu merupakan ....
  - a. Gagasan yang menjiwai isi karangan
  - b. Pemaparan tempat, waktu, dan suasana
  - c. Pesan pengarang kepada pembaca
  - d. Rangkaian jalannya cerita
12. Bacalah kutipan cerpen berikut!  
*Masjid itu hanyalah sebuah bangunan kecil saja. Namun, jika kau memperhatikan, kau akan segera tahu usia bangunan itu sudah sangat tua. Temboknya tebal, jendela-nya tak berdaun-hanya lubang segi empat dengan lengkungan di bagian atasnya. Begitu juga pintunya, tak berdaun pintu. Lantainya menggunakan keramik putih-kuduga itu baru kemudian dipasang karena modelnya masih bisa dijumpai di toko-toko material.*  
Kutipan tersebut menunjukkan unsur cerpen yang berupa ....
  - a. Alur
  - b. latar
  - c. tema
  - d. tokoh/penokohan
13. Teks yang bertujuan memaparkan langkah-langkah membuat atau melakukan sesuatu merupakan jenis teks ...
  - a. Deskripsi
  - b. Narasi
  - c. observasi
  - d. prosedur
14. Bagian dalam struktur teks prosedur yang selalu ada adalah ...
  - a. Alat dan bahan
  - b. Langkah-langkah
  - c. penutup
  - d. tujuan
15. *Haluskan tapai singkong, lalu campur dengan gula dan ragi instan!*  
Dilihat dari strukturnya, kalimat di atas termasuk jenis kalimat...
  - a. Deklaratif
  - b. Imperative
  - c. interogatif
  - d. retorisi
16. *Rebus malam hingga mencair!*  
Verba *mencair* termasuk jenis verba intransitive karena ...
  - a. Tidak menuntut kehadiran objek
  - b. Menunjukkan perilaku
  - c. Menyatakan perbuatan aktif
  - d. Menyatakan perbuatan pasif
17. *Gerakkan kaki mundur satu langkah ke belakang, ,, maju satu langkah sambil berputar.*  
Kata sambung yang tepat untuk melengkapi bagian rumpang teks prosedur tersebut adalah ....
  - a. Akan tetapi
  - b. Dengan demikian
  - c. lalu
  - d. oleh sebab itu

18. Apakah kepanjangan LHO?
  - a. Lapangan Hasil Observasi
  - b. Laporan Hasil Observasi
  - c. Lampiran Halaman Observasi
  - d. Laporan Hasil Observasi
19. Berikut yang termasuk buku ilmu pengetahuan adalah ...
  - a. Cerpen
  - b. Ensiklopedia
  - c. novel
  - d. puisi
20. Objek teks laporan hasil observasi berikut yang menjelaskan tema fauna adalah ....
  - a. Batuan bumi
  - b. Gunung
  - c. dugong
  - d. mawar

**B. Kerjakan dengan mengikuti petunjuk pada setiap nomor!**

1. Buatlah dua kalimat dengan menggunakan kata *di* sebagai imbuhan!
2. Buatlah dua kalimat dengan kata sifat!
3. Tuliskan unsur intrinsik teks narasi!
4. Tuliskan contoh judul teks prosedur membuat dan melakukan sesuatu!
5. Tuliskan dua kalimat dengan verba pasif!



- a. Two thousand two
  - b. Two hundred twenty two
  - c. Two thousand twenty two
  - d. Twenty two two
18. Royhan was born on ... (5 December)
- a. December of five
  - b. December of the fifth
  - c. The fifth December
  - d. The fifth of December
19. My aunt was born on ... (11 May 1970)
- a. The eleventh of May, nineteen seventy
  - b. The May eleventh ninety seventy
  - c. The May of eleventh, nineteen seventy
  - d. The May of eleventh ninety seventy
20. Our Teacher's Day is on ...
- a. August 17
  - b. October 1
  - c. May 2
  - d. November 25

**B. ANSWER THE QUESTIONS CORRECTLY**

1. What is your full name?
2. Where are you from?
3. How do you spell your first and surname?
4. Write days of a week!
5. Write months of a year!



**PENILAIAN TENGAH SEMESTER  
MTs AL WASHLIYAH INSANUL KAMIL  
TAHUN PELAJARAN 2022 - 2023**

Nama : Mata Pelajaran : Tafsir  
Kelas : VII A/ B

١. تتم و سكل هذه اية ؟

يَا أَيُّهَا الَّذِينَ لَا تَقْرَبُوا الصَّلَاةَ .....  
حتى تعلموا ما تقولون ولا جنبا إلا .....  
حتى تغتسلوا وان كنتم .....  
او على سفر أو جاء احد منكم من .....  
أو لمستم النساء فلم تجدوا ماء فتيمموا .....  
فامسحوا ..... و ايديكم ان

الله كان ..... غفورا

٢. ترجم هذه ايه الى لغة انديسيا ؟

٣. اكتب سبب تيمم في هذه ايه؟

٤. ما معنى "فامسحوا بوجوهكم و ايديكم" ؟

٥. ما معنى "او جاء احد منكم من الغائط" ؟





**PENILAIAN TENGAH SEMESTER  
MTs AL WASHLIYAH INSANUL KAMIL  
TAHUN PELAJARAN 2022 - 2023**

Nama : Mata Pelajaran : Fikih

Kelas : VII A/ B

١. تولسكن افيغ دمقسود سنه هياد دان سنه ابعد ؟
٢. تولسكن ١٣ ركن صلاة ؟
٣. تولسكن سرت ساه صلاة ؟
٤. سبوتكن كفن مسوك وقت صلاة مغرب ، عشاء دان صوبح ؟
٥. افا يثغ سنه سنه كر جكن سبلم صلاة ؟



Nama :

No. Ujian :

Kelas :

Pelajaran :

**A. PILIHAN GANDA!**

**Pilihlah jawaban a, b, c atau d yang kamu anggap paling benar!**

1. Seorang siswa memperoleh data penyelidikan seperti dibawah ini!


No	Bagian tubuh	Deskripsi
1.	Rambut	Hitam
2.	Mata	Sipit
3.	Hidung	Mancung
4.	Bibir	Tipis

Hasil deskripsi data di atas diperoleh melalui proses penyelidikan IPA yaitu ...

- a. Pengukuran                      c. Membuat Inferensi  
b. Observasi                              d. Klasifikasi
2. Pasangan yang sesuai antara besaran pokok dengan satuannya dalam SI adalah ...

	Besaran	Satuan SI
a.	Panjang	Centimeter
b.	Masa	Gram
c.	Kuat arus	Ampere
d.	Suhu	Celcius

3. Pengukuran adalah sebuah aktivitas membandingkan suatu besaran yang diukur menggunakan alat ukur yang akan digunakan sebagai ...  
a. Besaran pokok                      c. Besaran  
b. Besaran turunan                      d. Satuan
4. Andi mengukur sebuah meja menggunakan penggaris dan didapat hasil panjang meja 120 cm, jika satuan centimeter diubah ke meter. Berapakah panjang meja tersebut ...  
a. 1 meter                              c. 1,2 meter  
b. 1,02 meter                              d. 0,12 meter
5. Perhatikan gambar dibawah ini!




.....hidup,  
yaitu ...

- a. Berkembang biak  
b. Peka terhadap rangsang  
c. Bergerak  
d. Tumbuh & Berkembang
6. Urutan tingkatan takson yang benar dari tertinggi ke terendah adalah ...  
a. Kingdom – Classis – Divisio/Phyllum – Ordo – Familia – Genus – Species  
b. Kingdom – Divisio/Phyllum – Ordo – Classis – Familia – Genus – Species  
c. Species – Ordo – Genus – Familia – Classis – Divisio/Phyllum – Kingdom  
d. Kingdom – Divisio/Phyllum – Classis – Ordo – Familia – Genus – Species
7. Alat yang digunakan untuk mengamati makhluk hidup yang berukuran mikro (kecil) adalah ...  
a. Lensa                              c. Loop  
b. Teropong                              d. Mikroskop
8. Berdasarkan pembelajaran yang sudah di lakukan, Besaran di kelompokkan menjadi dua jenis, yaitu ...  
a. Besaran pokok dan besaran baku  
b. Besaran pokok dan besaran turunan  
c. Besaran turunan dan besaran baku  
d. Besaran nasional dan besaran internasional
9. Kelompok yang termasuk golongan tumbuhan berbiji adalah .  
a. Lumut                              c. Jamur  
b. Paku                              d. Gymnospermae

10. Perbedaan antara *Pisces* dengan *Aves* ditinjau dari bagian luar tubuhnya ialah ...

	<i>Pisces</i>	<i>Aves</i>
a.	Bersisik	Licin
b.	Bersisik	Berbulu
c.	Bersisik	Berambut
d.	Berbulu	Bersisik

11. Pernyataan yang paling benar mengenai unsur adalah ...  
a. Zat tunggal yang tidak dapat di uraikan menjadi zat yang lebih sederhana  
b. Zat tunggal yang tidak dapat bercampur dengan zat lain  
c. Zat tunggal yang sudah tidak dapat dibagi lagi  
d. Zat tunggal yang tidak dapat bersenyawa dengan zat lain
12. Lambang dari unsur oksigen dan karbon dioksida yang benar ialah ...  
a. O dan OC                              c. Co dan Oo  
b. O<sub>2</sub> dan Co<sub>2</sub>                              d. O2 dan O
13. Sepeda motor bergerak di jalan lurus dengan kelajuan 72 km/jam. Dalam SI, kelajuan sepeda motor tersebut adalah ....  
a. 72 m/s                              c. 84 m/s  
b. 42 m/s                              d. 20 m/s
14. Perhatikan gambar kegiatan makhluk hidup berikut!



Ciri makhluk hidup makan dan berkembang biak secara berurut ditunjukkan oleh nomor ...

- a. 1 dan 2                              c. 3 dan 4  
b. 2 dan 3                              d. 1 dan 3
15. Jenis makhluk hidup yang mampu hidup di dua alam seperti hidup di darat maupun di air tergolong jenis makhluk hidup  
a. Aves                              c. Amphibi  
b. Mammalia                              d. Reptil
16. Perubahan zat yang dapat menghasilkan atau membentuk zat jenis baru disebut perubahan ...  
a. Kimia                              c. Biologis  
b. Fisika                              d. Fisiologis
- Perhatikan data dibawah ini untuk menjawab pertanyaan no 17 & 18!
- 1) Mengembun                      4) Terbentuknya endapan  
2) Terbentuknya zat                      5) Perubahan bentuk  
3) Mencair
17. Dari data diatas yang termasuk perubahan fisika adalah ...  
a. 1, 2 dan 3                              c. 1, 3 dan 5  
b. 2, 3 dan 4                              d. 3, 4 dan 5
18. Dari data tersebut yang termasuk perubahna kimia adalah ...  
a. 1, 2 dan 3                              c. 2 dan 4  
b. 2 dan 5                              d. 4 dan 5
19. Suatu materi yang terdiri atas dua zat atau lebih yang masih mempunyai sifat zat asalnya disebut ...  
a. Senyawa                              c. Unsur  
b. Larutan                              d. Campuran
20. Alat yang digunakan untuk mengukur suhu benda adalah ...  
a. Barometer                              c. Termometer  
b. Altimeter                              d. Hydrometer

**B. Uraian!**

1. Seorang siswa menanam jagung . pada pengukuran awal diperoleh tinggi tanaman 10 cm. Dalam 10 hari, tingginya menjadi 60 cm. Hitunglah pertumbuhan jagung tersebut?
2. Jika ibumu melarutkan 4 gram gula ke dalam 8 liter air teh, berapakah konsentrasi larutan gula tersebut?
3. Tuliskan ciri-ciri makhluk hidup?
4. Tuliskan besaran pokok beserta satuannya?
5. Ubahlah suhu dibawah ini!  
a. 35°C = .....°R                      b. 53°C = .....K



**PENILAIAN SEMESTER GANJIL**  
**MTs AL WASHLIYAH INSANUL KAMIL**  
**TAHUN PELAJARAN 2022 - 2023**

Nama : Mata Pelajaran : IPS  
Kelas : No. Ujian :

1. Letak suatu wilayah atau negara berdasarkan kenyataan pada permukaan bumi disebut letak.....
  - a. Geologis
  - b. Astronomis
  - c. Geografis
  - d. Regional
2. Tanah rawa atau gambut hanya cocok untuk tumbuhan.....
  - a. Jati
  - b. Bakau
  - c. Cemara
  - d. Palma
3. Contoh tumbuhan asli indonesia adalah.....
  - a. Asam
  - b. Coklat
  - c. Karet
  - d. Kentang
4. Waktu indonesia bagian barat menggunakan standar meridian pusat....
  - a. 105<sup>0</sup>BT
  - b. 110<sup>0</sup>BT
  - c. 115<sup>0</sup>BT
  - d. 120<sup>0</sup>BT
5. Zona ekonomi eksklusif adalah laut yang terletak pada batas garis pantai sepanjang .....
  - a. 2 Mil
  - b. 20 Mil
  - c. 200 Mil
  - d. 2.000 Mil
6. Daerah iklim tropis yang kurang hujan di tumbuh oleh flora padang rumput disebut.....
  - a. Sabana
  - b. Tundra
  - c. Gurun
  - d. Oasis
7. Angin yang berbalik arah setiap setengah tahun sesuai dengan letak matahari di sebut angin.....
  - a. Lokal
  - b. Darat
  - c. Muson
  - d. Lembah
8. Salah satu tanah yang bersifat subur seperti tanah.....
  - a. Mediteran
  - b. Podsol
  - c. Podsol
  - d. Podsol

- b. Humus
  - d. Laterit
9. Interaksi sosial yang berlangsung secara tatap muka dinamakan interaksi sosial secara.....
    - a. Pribadi
    - b. Tidak langsung
    - c. Langsung
    - d. Alamiah
  10. Akibat dari letak geografisnya, iklim di indonesia dipengaruhi oleh angin.....
    - a. Darat
    - b. Muson
    - c. Laut
    - d. Siklon
  11. Tanah margel banyak ditemukan di.....
    - a. Pegunungan kidul, jawa tengah
    - b. Pegunungan kendeng, jawa tengah
    - c. Lampung utara
    - d. Karawang
  12. Dasar proses sosial adalah.....
    - a. Interaksi sosial
    - b. Perubahan sosial
    - c. Kontak sosial
    - d. Komunikasi sosial
  13. Interaksi sosial merupakan faktor utama terjadinya.....
    - a. Proses sosial
    - b. Sistem sosial
    - c. Struktur sosial
    - d. Komunikasi sosial
  14. Contoh sumber daya alam yang dapat diperbaharui adalah.....
    - a. Hewan, tumbuhan, dan mineral
    - b. Air, udara, dan tanah
    - c. Timah, angin, dan bauksit
    - d. Emas, perak, dan tembaga
  15. Proses interaksi sosial selalu diawali oleh adanya.....
    - a. Kontak sosial
    - b. Hubungan sosial
    - c. Proses sosial
    - d. Identifikasi sosial
  16. Syarat utama terjadinya interaksi sosial adalah.....
    - a. Kontak sosial
    - b. Komunikasi sosial
    - c. Hubungan sosial
    - d. Kontak dan Komunikasi sosial
  17. Salah satu syarat yang sangat penting dalam interaksi sosial ialah adanya.....
    - a. Komunikasi
    - b. Kontak sosial
    - c. Media
    - d. Bahasa

18. Berikut ini yang merupakan wujud interaksi tidak langsung adalah .....
- Fahmi berkirim surat kepada Yulinar
  - Budi berkelahi dengan Yudi
  - Ibu marah-marah kepada adik
  - Pak andi mengajar siswa di kelas
19. Proses peniruan yang dilakukan secara menyeluruh disebut juga dengan.....
- Empati
  - Identifikasi
  - Simpati
  - Imitasi
20. Latar belakang seseorang melakukan interaksi sosial dalam kehidupan masyarakat adalah.....
- Kemauan dan kemampuan
  - Status ekonomi seseorang
  - Kedudukan dan peranan yang dimiliki
  - Status pendidikan seseorang

## ESSAY

- Tuliskan pengertian ruang ?
- Tuliskan dua benua dan dua samudra yang ada di indonesia ?
- Sebutkan sumber daya alam yang ada di indonesia ?
- Jelaskan pengertian interaksi sosial ?
- Tuliskan tiga faktor yang mendasari terjadinya interaksi sosial ?



**PENILAIAN SEMESTER GANJIL**  
**MTs AL WASHLIYAH INSANUL KAMIL**  
**TAHUN PELAJARAN 2022 - 2023**

Nama :	Mata Pelajaran : Ke Al Washliyahan
Kelas :	No. Ujian :

1. Organisasi Islam terbesar di Sumatera Utara adalah....
    - a. Al Jam'iyatul Washliyah
    - b. Nahdhatul Ulama
    - c. Muhammadiyah
    - d. Wathoniyah
  2. Dalam bendera Al Jam'iyatul Washliyah terdapat lambang.....
    - a. Bulan purnama
    - b. Bintang sabit
    - c. Bulan sabit bintang enam
    - d. Bulan sabit bintang lima
  3. Warna bendera Al Washliyah adalah....
    - a. Putih
    - b. Hitam
    - c. Hijau
    - d. Biru
  4. Arti kata "Al Jam'iyah" adalah....
    - a. perpecahan
    - b. perkumpulan
    - c. perukunan
    - d. peranakan
  5. Arti dari kata "Washliyah" adalah ....
    - a. Memecah
    - b. Menghubungkan
    - c. Mengikat
    - d. Merusak
  6. Al Washliyah lahir pada tanggal .....
    - a. 12
    - b. 20
    - c. 30
    - d. 15
  7. Al Washliyah lahir pada bulan .....
    - a. Januari
    - b. Desember
    - c. Juni
    - d. November
  8. Al Washliyah lahir pada tahun.....
    - a. 1990
    - b. 2022
    - c. 1930
    - d. 1390
  9. Pada tahun 2022, usia Al Washliyah sudah mencapai ....
    - a. 90 tahun
    - b. 91 tahun
    - c. 92 tahun
    - d. 93 tahun
  10. Al Washliyah lahir di kota ....
    - a. Padang
    - b. Aceh
    - c. Perbaungan
    - d. Medan
  11. Berikut merupakan salah satu lagu-lagu washliyah, *kecuali*...
    - a. Mars Al Washliyah
    - b. Hymne Al Washliyah
    - c. Cita-citaku
    - d. Dirgayulah
  12. Salah satu organ bagian Al Washliyah adalah...
    - a. ISA
    - b. IDA
    - c. IPA
    - d. IMA
  13. Salah satu pejuang/ulama Al Washliyah adalah....
    - a. Arsyad Husni
    - b. Arsyad Mukhlis
    - c. Arsyad Thalib
    - d. Arsyad Yusuf
  14. Salah satu ciri murid perempuan Al Washliyah khususnya di Perbaungan adalah memakai...
    - a. Jilbab hitam
    - b. Jilbab besar
    - c. Jilbab lilit
    - d. Jilbab segitiga
  15. Slogan khas Al Washliyah adalah...
    - a. Hiduplah washliyah pantang mundur
    - b. Hiduplah washliyah saat ini
    - c. Hiduplah washliyah nanti
    - d. Hiduplah washliyah zaman ber zaman
- ESSAY**
1. Tuliskan kata "Al Jam'iyatul Washliyah" dengan bahasa Arab!
  2. Sebutkan 3 lagu-lagu Al Washliyah yang kamu ketahui!
  3. Tuliskan tanggal, bulan dan tahun lahirnya Al Washliyah!
  4. Apa kepanjangan dari IPA?
  5. Siapakah kepala Madrasah Tsanawiyah Al Washliyah Insanul Kamil?



**PENILAIAN AKHIR SEMESTER  
MTs AL WASHLIYAH INSANUL KAMIL  
TAHUN PELAJARAN 2022 - 2023**

Nama : \_\_\_\_\_ Mata Pelajaran : \_\_\_\_\_  
Kelas : \_\_\_\_\_

**A. PILIHAN GANDA**

1. Dari pernyataan berikut:

- (i)  $-2 < 4$
- (ii)  $-6 > -9$
- (iii)  $12 < -15$

Pernyataan yang benar adalah ...

- A. Hanya (i) dan (ii)
- B. Hanya (i) dan (iii)
- C. Hanya (ii) dan (iii)
- D. (i), (ii), (iii)

2. Urutan suhu dari -50, 90, 20, -10 dari yang terpanas adalah...

- A. -10, -50, 20, 90
- B. -50, -10, 20, 90
- C. 20, -10, -50, 90

D. 90, 20, -10, -50

3. Bilangan pecahan yang nilainya terkecil adalah...

- A.  $\frac{5}{12}$
- B.  $\frac{4}{9}$
- C.  $\frac{3}{8}$
- D.  $\frac{3}{7}$

4. Hasil dari  $7+(-6)-(-7)$  adalah...

- A. -6
- B. 6
- C. -8
- D. 8

5. Hasil dari  $-12+(-7)-(-15)$  adalah...

- A. -34
- B. -20
- C. -4
- D. 10

6. Hasil dari  $(-12):3+8\times(-5)$  adalah...

- A. -44
- B. -36

- C. 28
- D. 48
7. Hasil dari  $14+42:7-12\times(-3)$  adalah...
- A. -28
- B. -16
- C. 44
- D. 56
8. Dalam suatu tes, jawaban benar diberi nilai 5, yang salah diberi nilai -1, dan untuk soal yang tidak dijawab 0. Jika dari 20 soal, Tasya menjawab dengan benar 14 soal dan 3 soal salah serta sisanya tidak dijawab, maka nilai yang diperoleh Tasya adalah...
- A. 65
- B. 67
- C. 72
- D. 70
9. Penyelesaian dari persamaan  $X-7=3$  adalah...
- A. 10
- B. 5
- C. 4
- D. 2
10. Pak Indra mempunyai cat sebanyak 4kg. Sebanyak 1,2kg digunakan untuk mengecat lemari, dan 0,8kg untuk mengecat meja sisanya untuk mengecat kursi.
- Banyaknya cat untuk mengecat kursi adalah...
- A. 2,01 kg
- B. 2,18 kg
- C. 2,30 kg
- D. 3,20 kg
11. Suhu mula-mula di ruangan freezer adalah  $21^{\circ}C$ . setelah alat pendingin freezer itu dihidupkan suhunya menjadi  $-6^{\circ}C$ . Besar penurunan suhu di ruangan tersebut adalah...
- A.  $-27^{\circ}C$
- B.  $-15^{\circ}C$
- C.  $15^{\circ}C$
- D.  $27^{\circ}C$
12. Kelipatan persekutuan terkecil (KPK) dari 18, 27, dan 45 adalah...
- A. 178
- B. 270
- C. 345
- D. 407
13. Faktor persekutuan terbesar (FPB) dari 36, 72, dan 90 adalah...
- A. 18

B. 36

C. 72

D. 360

14. Hasil operasi hitung  $\frac{2}{3} + \frac{3}{2}$  adalah...

A.  $\frac{5}{5}$

B.  $\frac{6}{6}$

C.  $\frac{12}{6}$

D.  $\frac{13}{6}$

15. Hasil dari  $18\frac{5}{12} - 11\frac{3}{6}$  adalah...

A.  $\frac{3}{24}$

B.  $7\frac{1}{24}$

C.  $6\frac{7}{24}$

D.  $6\frac{1}{24}$

16. Pecahan yang senilai dengan  $\frac{5}{8}$  adalah...

A.  $\frac{25}{40}$

B.  $\frac{35}{40}$

C.  $\frac{30}{47}$

D.  $\frac{35}{49}$

17. Hasil dari  $\frac{3}{8} \times 1\frac{2}{3}$  adalah...

A.  $1\frac{5}{11}$

B.  $1\frac{1}{4}$

C.  $\frac{8}{11}$

D.  $\frac{5}{8}$

18. Hasil dari  $12\frac{1}{2} : 20\frac{5}{6}$  adalah...

A.  $\frac{1}{6}$

B.  $\frac{3}{5}$

C.  $\frac{5}{6}$

D.  $1\frac{1}{5}$



19. Bentuk persen dari pecahan  $\frac{3}{8}$  adalah...

- A.  $13\frac{1}{2}\%$
- B.  $33\frac{1}{2}\%$
- C.  $37\frac{1}{2}\%$
- D.  $52\frac{1}{2}\%$

20. Nilai dari  $4,23 - 2,138$  adalah...

- A. 2,102
- B. 2,092
- C. 2,062
- D. 2,032

## B. ESSAY

1. Hitunglah hasil operasi bilangan berikut

$$(-30+18) : (-3-1) = \dots$$

2. Jika  $a = -3$ ,  $b = -5$ , dan  $C = 7$

$$\text{Nilai dari } -4a+2b+C = \dots$$

3.  $\frac{3}{8} \times \frac{1}{3} \times \frac{1}{4}$

4. Hitunglah  $4,25+1,78-3,46 = \dots$

5. Nilai dari  $3\frac{3}{5} \times (-6) : \left(-4\frac{4}{5}\right) = \dots$

MATA PELAJARAN : NAHWU  
HARI : .....

WAKTU : .....  
TANGGAL : .....

1. سسونن كات يغ ممبري فغرتين يغ سمفرن دنامكم...  
أ. الاسم  
ب. الفعل  
ج. الكلام  
د. المبتداء
2. نام لائن داري الْجُمْلَةُ الْمُفِيدَةُ إليه ...  
أ. الاسم  
ب. الفعل  
ج. الكلام  
د. المبتداء
3. الْجُمْلَةُ الْمُفِيدَةُ سكورغ-كورعت ترسوسن داري ...  
أ. ساتو كات  
ب. دوا كات  
ج. تيك كات  
د. أمفت كات
4. كلمة دافت دباكي تيكا بهاكين، يانت  
أ. الاسم-المبتداء-الحرف  
ب. الفعل-الخبر  
ج. الاسم-المبتداء-الحرف  
د. الاسم-الفعل-الحرف
5. بوكن تندا-تندا الاسم.  
أ. أدا الف دان لام (أل)  
ب. أدا تنوين (بارس دوا \_\_\_\_\_)  
ج. أدا كلمة قَدْ  
د. أدا حرف الجر
6. بريكوت اين أدله حرف الجر، سلائن ..  
أ. مِنْ  
ب. إِنَّ  
ج. إِلَى  
د. فِي
7. بوكن تندا-تندا الاسم.  
أ. أدا الف دان لام (أل)  
ب. أدا تنوين (بارس دوا \_\_\_\_\_)  
ج. أدا حرف الجر  
د. أدا كلمة سَوْفَ
8. فمبهاكين الاسم منيلك كفد جنسث .  
أ. الاسم المذكر دان الاسم المؤنث  
ب. الاسم المفرد، الاسم المثنى، دان الاسم الجمع  
ج. الاسم المعرفة دان الاسم النكرة  
د. جمع المذكر السالم دان جمع المؤنث السالم
9. فمبهاكين الاسم منيلك كفد باثك سديكيثت سسواتو يغ دتبجو اوله الاسم ايت.  
أ. الاسم المذكر دان الاسم المؤنث  
ب. الاسم المفرد، الاسم المثنى، دان الاسم الجمع  
ج. الاسم المعرفة دان الاسم النكرة  
د. جمع المذكر السالم دان جمع المؤنث السالم
10. جونتوه الاسم المثنى  
أ. مُسَلِّمٌ  
ب. كِتْبَانٌ  
ج. كِافِرُونَ  
د. مُدَرِّسَاتٌ
11. جونتوه اسم جمع المذكر السالم  
أ. مُسَلِّمٌ  
ب. طَالِبِينَ  
ج. كِافِرِينَ  
د. مُدَرِّسَاتٌ
12. جونتوه اسم جمع المؤنث السالم  
أ. عَالِمٌ  
ب. طَالِبِينَ  
ج. كِافِرِينَ  
د. مُسَلِّمَاتٌ
13. بنتوك الاسم المثنى داري مُحْسِنٌ  
أ. مُحْسِنًا  
ب. مُحْسِنَاتٍ  
ج. مُحْسِنِي  
د. مُحْسِنِينَ
14. بنتوك جمع المذكر السالم داري نَاجِحٌ  
أ. نَاجِحُونَ  
ب. نَاجِحِينَ  
ج. نَاجِحَانِ  
د. نَاجِحَاتٌ
15. الفعل الماضي أداله  
أ. كات كرج يغ لالو دلاكوكن  
ب. كات كرج يغ سيداغ دلاكوكن  
ج. كات كرج يغ أكن دلاكوكن  
د. كات فرينته
16. الفعل المضارع أداله  
أ. كات كرج يغ لالو دلاكوكن  
ب. كات كرج يغ سيداغ دلاكوكن  
ج. كات كرج يغ أكن دلاكوكن  
د. كات فرينته
17. يغ منجادي فلاكو فدا ساتو فربواتن أداله  
أ. الاسم  
ب. المبتداء  
ج. الفعل  
د. الفاعل
18. يَرْفَعُ الْإِسْمَ وَيَبْصِبُ الْخَبَرَ أداله عمل داري  
أ. كَانَ وَأَخَوَاتِهَا  
ب. المبتداء وأخواتها  
ج. إِنَّ وَأَخَوَاتِهَا  
د. أنتلر سودار كَانَ أداله
19. دَأْتَلِرْ سَوْدَارِ كَانَ أداله  
أ. كَانَ  
ب. لَيْتَ  
ج. لَيْسَ  
د. لَعَلَى
20. دَأْتَلِرْ سَوْدَارِ إِنَّ أداله  
أ. كَانَ  
ب. صَارَ  
ج. لَيْسَ  
د. أَصْحَى



**PENILAIAN AKHIR SEMESTER  
MTs AL WASHLIYAH INSANUL KAMIL  
TAHUN PELAJARAN 2022 - 2023**

Nama :

Mata Pelajaran : PJOK

Kelas :

**Berilah tanda silang (x) didepan huruf**

**a, b, c atau d pada jawaban yang**

**benar !**

1. Jumlah pemain dalam pertandingan sepak bola adalah ...
  - a. 9 pemain
  - b. 10 pemain
  - c. 11 pemain
  - d. 12 pemain
2. Berikut adalah teknik dasar yang digunakan dalam pertandingan sepak bola:
  - a. kontrol bola
  - b. layanan
  - c. hancurkan itu
  - d. blok
3. Setelah gol untuk menggiring bola dalam pertandingan sepak bola, kecuali ...
  - a. untuk membawa bola lebih dekat ke target
  - b. Mengakali konsentrasi pertahanan musuh
  - c. untuk merebut bola dari lawan
  - d. untuk menghancurkan pertahanan musuh
4. Organisasi induk bola voli di Indonesia adalah ...
  - a. PSBVI
  - b. PBVSI

c. PVBSI

d. Perbasi

5. Bola voli mendarat ditangan, bola mengenai di bagian ...

a. pergelangan tangan

b. telapak tanganmu

c. kembali dari tangan

d. ujung jari

6. Teknik dasar dalam bola voli adalah ...

a. servis dan passing

b. Passing dan heading

c. Layanan dan retas

d. memblokir dan tos

7. Permainan basket ditemukan oleh , ...

a. Dr. James A. Naismith

b. Dr. Almer Baskey

c. William G. Morgan

d. Dr. Suratin

8. Teknik dasar untuk menembak bola dalam permainan basket adalah ...

a. Pasing

b. layanan

c. hoot shot

d. blok

9. Organisasi bulutangkis nasional induk adalah ...

a. FIFA

b. FIBA

c. PABSI

d. PBSI

10. Di bawah ini yg tidak termasuk pegangan raket pada bulutangkis,kecuali ...
- Belunggu Inggris
  - Pegangan Amerika
  - Pegangan Finlandia
  - pegangan backhand
11. Durasi permainan dalam permainan bulutangkis ditentukan oleh ...
- poin
  - jaraknya
  - waktu
  - satu putaran
12. Di bawah ini adalah teknik memukul bola dalam permainan kasti ,kecuali ...
- pukulan samping
  - pukulan mendatar
  - pukulan melambung jauh
  - pukulan rendah
13. Kastil diklasifikasikan sebagai game ...
- bola besar
  - bola kecil
  - pukul bola
  - Melempar bola
14. Gerakan berikut ini yang tidak termasuk dalam dasar-dasar permainan bisbol ...
- mulai
  - menyisipkan
  - terjadi
  - hit
15. Penglihatan bisbol adalah ...
- ke arah bola
  - ke arah kendi
  - terhadap teman
  - harmoni Target
16. Jumlah pemain tim inti dalam permainan bisbol adalah
- 8
  - 10
  - 12
  - 14
17. Teknik dasar jalan cepat memperhatikan hal-hal berikut, kecuali ...
- di sana sambil berenang
  - Sebuah kaki menyentuh tanah
  - Tanah pertama dengan tumit Anda
  - mendaki secepat mungkin
18. Jika Anda cepat, lengan Anda harus ...
- gerakan maju
  - tubuh bersandar
  - langkahnya
  - tangga
19. Organisasi olahraga nasional induk adalah ...
- FASI
  - PBSI
  - PASI
  - Percasi
20. Perbedaan antara jalan dan berlari adalah di ...
- cara tendangan kaki Anda
  - langkahnya
  - tubuh bersandar
  - Masukkan garis akhir

## ESSAY

- Sebutkan macam-macam teknik dasar bermain sepak bola!
- Siapa penemu dari permainan bola voli?

3. Apa yang dimaksud dengan dribbling dalam permainan bola basket?
4. Apa tujuan teknik menghentikan bola?
5. Tuliskan macam-macam cara memukul bola dalam permainan kasti.



**PENILAIAN SEMESTER GANJIL**  
**MTs AL WASHLIYAH INSANUL KAMIL**  
**TAHUN PELAJARAN 2022 - 2023**

Nama : Mata Pelajaran : PPKN  
Kelas : No. Ujian :

- Tokoh bangsa Indonesia yang diangkat menjadi ketua BPUPK adalah....
  - Ki Bagus Hadikusumo
  - R. Panji Suroso
  - Radjiman Wedyodiningrat
  - Muhammad Yamin
- Perumusan dasar negara Indonesia diawali adanya kejadian....
  - Pembentukan BPUPK
  - Pembentukan PPKI
  - Belanda mengalah kepada sekutu
  - Jepang menduduki pangkalan militer Amerika
- Rumusan Pancasila yang benar dan sah adalah rumusan yang terdapat dalam.....
  - Piagam Jakarta
  - Pembukaan konstitusi RIS
  - Pembukaan UUD Tahun 1945
  - Dekrit Presiden
- Semangat persatuan yang dapat kita teladani dari para tokoh perumus Pancasila, yaitu.....
  - Menghargai perbedaan
  - Disiplin
  - Musyawarah
  - Pantang menyerah
- Berikut ini kedudukan Pancasila, *kecuali*.....
  - Dasar negara
  - Pandangan hidup negara
  - Perjanjian luhur bangsa
  - Sumber aspirasi bangsa
- Nilai juang yang terdapat pada proses perumusan Pancasila sebagai dasar negara, yaitu.....
  - Musyawarah
  - Disiplin
  - Rendah hati
  - Jujur
- Setelah tanggal 1 Juni 1945 BPUPK berhenti bersidang karena.....
  - Perang dunia II
  - Jepang menyerah
  - BPUPK dibubarkan
  - Dasar negara
- Membantu korban bencana perjuangan merupakan perwujudan dari sikap.....
  - Musyawarah mufakat
  - Menghargai orang lain
  - Cinta tanah air
  - Rela berkorban
- Tokoh yang mengusulkan Pancasila sebagai dasar negara dalam sidang BPUPK adalah.....
  - Drs. Mohammad Hatta
  - Ir. Soekarno
  - Mr. Muh. Yamin
  - Dr. Supomo
- Sanksi bagi orang yang melanggar norma kesopanan berupa....
  - Pembayaran denda
  - Dicela dan dicemoohkan
  - Penderitaan fisik
  - Rasa penyesalan
- Salah satu semangat dari para pendiri negara yang harus diteladani adalah.....
  - Ingin dikenang sebagai pahlawan
  - Rela berkorban dan nasionalis
  - Kebersamaan karena senasib
  - Semangat perjuangan
- Seorang pengendara motor kena tilang dan tidak dapat menunjukkan SIM. Hal ini melanggar norma.....
  - Agama
  - Kesusilaan
  - Kesopanan
  - Hukum
- Menghormati orang tua agar selamat dunia dan akhirat merupakan ajaran yang diperintahkan norma agama dan norma.....
  - Agama
  - Kesusilaan
  - Kesopanan
  - Hukum
- Berikut yang termasuk hukuman pokok adalah.....
  - Pencabutan hak-hak tertentu
  - Hukuman denda
  - Perampasan barang-barang tertentu
  - Pengumuman putusan hakim
- Dalam masyarakat berlaku berbagai norma kehidupan maka sikap kita terhadap norma tersebut adalah.....
  - Menjunjung tinggi
  - Menghayati
  - Memperhatikan
  - Memahami

16. Untuk mengantisipasi keinginan dan kepentingan yang berbeda-beda di masyarakat diperlukan adanya.....
- a. Aturan hukum
  - b. Badan peradilan
  - c. Sanksi hukum
  - d. Lembaga masyarakat
17. Hukum yang masih hidup dan tumbuh dalam keyakinan masyarakat tertentu adalah.....
- a. Hukum tertulis
  - b. Hukum tidak tertulis
  - c. Wujud Hukum
  - d. Sumber Hukum
18. Dalam kehidupan di masyarakat, norma tidak berfungsi sebagai.....
- a. Alat dan ketertiban
  - b. Sarana untuk mewujudkan keadilan
  - c. Sarana hukum bagi pelanggaran
  - d. Pengawasan bagi aparat penegak hukum
19. Norma kehidupan masyarakat yang selaras, serasi, dan seimbang dapat dicapai apabila masyarakat.....
- a. Menjunjung tinggi tahta dan harta
  - b. Menerima budaya luar
  - c. Melestarikan budaya bangsa
  - d. Memperhatikan hak dan kewajiban serta saling menghargai
20. Seseorang yang melanggar norma kesusilaan akan.....
- a. Mendapatkan hukuman denda
  - b. Mendapatkan hukuman penjara
  - c. Dikucilkan masyarakat
  - d. Merasakan penyesalan

## ESSAY



1. Sebutkan apakah yang disebut sebagai pendiri negara (*founding fathers*) ?
2. Mengapa tanggal 1 Juni disebut sebagai hari kelahiran Pancasila ?
3. Apa yang dimaksud dengan norma ?
4. Mengapa norma diperlukan dalam masyarakat ?
5. Tuliskan empat macam norma dan berilah masing-masing dua contohnya !



**PENILAIAN SEMESTER GANJIL  
MTs AL WASHLIYAH INSANUL KAMIL  
TAHUN PELAJARAN 2022 - 2023**

Nama : Mata Pelajaran : Prakarya  
Kelas : No. Ujian :

- Serat yang berasal dari tumbuhan dapat diklasifikasikan menjadi empat sebagai berikut, kecuali....
  - Serat dari biji
  - Serat dari hewan
  - Serat dari batang
  - Serat dari daun
- Gelang *bracelet* merupakan kerajinan serat yang di buat dengan teknik....
  - Batik
  - Tenun
  - Sulam
  - Makrame
- Bulu hewan yang paling banyak di olah menjadi produk kerajinan adalah...
  - stapel dan filamen
  - buah dan daun
  - stapel dan batang
  - filamen dan daun
- Serat yang pada masa awal selama ribuan tahun memenuhi kebutuhan manusia adalah....
  - Sutra, flax, wol, rami
  - Kapas, flax, jute, sutra
  - Flax, wol, sutra, kapas
  - Wol, kapuk, sutra, kapas
- Prinsip perencanaan dimulai dengan.....
  - Memilih ide
  - Membandingkan ide
  - Mencari ide
  - Menukar ide
- Berikut ini urutan syarat perancangan benda kerajinan, yaitu.....
  - Kegunaan, keindahan, kerapian, kejernihan, kenyamanan
  - Kegunaan, kenyamanan, keluwesan, keamanan, keindahan
  - keluwesan, keamanan, Kegunaan, keindahan, keamanan
  - Kegunaan, keindahan, keluwesan, keamanan, keindahan
- Antara tekstil dan kain mempunyai pengertian.....
  - Sama
  - Kain lebih luas

- Tidak sama
  - Tekstil lebih luas
- Salah satu karya kerajinan tekstil yang kesempurnaannya ditentukan oleh adanya desain adalah.....
    - Kaus
    - Pakaian
    - Lenan rumaha tangga
    - Aksesoris
  - gambar dibawah ini merupakan serat biji.....
    - Kapas
    - Mahkota dewa
    - Kulit kacang
    - Daun salju
- 
- Pengolahan serat rami dimulai dengan pemisahan kulit dari batangnya yang di sebut....
    - Brushing*
    - Degumming*
    - Klorinisasi*
    - Dekortikasi*
  - Pada gambar di bawah adalah serat....
    - Polyester
    - Spandeks
    - Nilon
    - Akrik
- 
- Pada dasarnya, menggambar sketsa adalah menarik garis dengan....
    - Tangan
    - Bantuan penggaris
    - Bantuan alat
    - Bantuan mistar
  - Pemilihan bahan untuk suatu produk disesuaikan dengan kegunaan dan....
    - Bentuk produk
    - Pengguna produk
    - Harga produk
    - Teknik produk
  - Dibandingkan dengan bahan kayu, kelebihan bahan berikut adalah....
    - Lentur dan ringan
    - Ringan dan kuat
    - Kuat dan murah
    - Murah dan awet
  - Proses pembuatan harus dilakukan dengan sungguh-sungguh, teliti, telaten dan memperhatikan....
    - Kebersihan
    - Kerapian
    - Keindahan
    - Keselamatan
  - Jenis pelayanan yang diberikan bagi penderita penyakit parah adalah....





- a. Promotif
  - b. Kuratif
  - c. Preventif
  - d. Rehabilitatif
17. Agar dapat memanfaatkan teknologi dengan baik, kita harus memiliki.....
- a. Wawasan tentang teknologi
  - b. Pemahaman tentang teknologi
  - c. Wawasan dan pemahaman tentang teknologi
  - d. Wawasan, pemahaman, bahan, dan peralatan teknologi
18. Menurut mangkunegara, keselamatan dan kesehatan kerja (K3) tujuan utama untuk.....
- a. Menjamin keutuhan jasmani tenaga kerja
  - b. Menjamin keutuhan rohani tenaga kerja
  - c. Menjamin keutuhan jasmanai dan rohani tenaga kerja
  - d. Menjamin keutuhan dan kesempurnaan jasmani maupun rohani tenaga kerja
19. Penanganan kecelakaan adalah berupa.....
- a. Kesehatan
  - b. Kesusahan
  - c. Ketertiban
  - d. Keamanan
20. Gambar sketsa merupakan gambar ide.....
- a. Akhir
  - b. Awal
  - c. Pertengahan
  - d. Penghabisan

## ESSAY

1. Apakah serat itu? Dari manakah serat di peroleh ?
2. Ada lima prinsip penggunaan kerajinan serat, sebutkan !
3. Dari apakah serat selulosa dibuat? Sebutkan contoh jenisnya!
4. Apapah dampak positif dan negatif teknologi di bidan sosial dan budaya ?
5. Apakah tujuan program keselamatan kerja?



**PENILAIAN SEMESTER GANJIL  
MTs AL WASHLIYAH INSANUL KAMIL  
TAHUN PELAJARAN 2022 - 2023**

Nama : Mata Pelajaran : Seni Budaya  
Kelas : No. Ujian :

- Gambar merupakan bahasa yang universal dan dikenal jauh sebelum manusia mengenal.....
  - Pakaian
  - Kendaraan
  - Tulisan
  - makanan
- Menggambar tidak hanya mengandalkan imajinasi, tetapi juga memerlukan.....
  - Proporsi
  - Komposisi
  - Inspirasi
  - Objek
- Media menggambar yang memiliki sifat *aquarel* selain cat air adalah.....
  - pastel
  - pensil warna
  - cat poster
  - krayon
- Teknik memberi warna kesan gelap terang dengan menggunakan garis-garis yaitu....
  - pointilis
  - blok
  - arsir
  - aquarel
- Berikut ini merupakan alam benda yang sudah terdapat di alam, yaitu.....
  - Batu, awan daun
  - gelas, mangkok, kendi
  - awan, air, batu
  - batu, kayu, daun
- Dalam menggambar bentuk, untuk mendapatkan kesan tiga dimensi dari objek yang digambar menggunakan teknik...
  - komposisi
  - perspektif
  - pencahayaan
  - siluet
- Komposisi yang menunjukkan bahwa objek di bagian kanan tidak sama dengan objek di bagian kiri gambar tetapi terkesan menunjukkan keseimbangan adalah.....
  - sentral
  - asimetris
  - simetris
  - diagonal

- Menggambar dengan cara menutup objek gambar menggunakan satu warna sehingga menimbulkan kesan siluet di sebut teknik.....
  - pointilis
  - blok
  - sapuan
  - arsir
- Motif hias dapat dibuat dengan cara berikut ini, *kecuali*.....
  - digambar
  - dicetak
  - dipahat
  - diwarnai
- Parang merupakan salah satu ragam batik yang bermotif.....
  - Flora
  - Alam benda
  - fauna
  - geometris
- Ragam hias di bawah menggunakan motif hias.....
  - flora
  - fauna
  - geometris
  - figuratif
- Ragam hias figuratif biasanya mengambil objek.....
  - flora
  - manusia
  - fauna
  - benda alam
- Ragam hias pada kayu biasanya dibuat dengan teknik.....
  - celup
  - cor
  - pahat
  - ukir
- Ragam hias di bawah menggunakan objek binatang adalah.....
  - belalang
  - kambing
  - burung
  - ikan
- bentuk-bentuk ciptaan yang tidak terdapat pada alam nyata seperti motif makhluk ajaib, raksasa, dan dewa disebut motif .....
  - kreasi
  - flora
  - benda alam
  - geometris
- Simbol yang melambangkan kesuburan sebagai sumber penghidupan di muka bumi adalah ragam hias.....
  - wajikan
  - gunungan
  - lung-lungan
  - patran



17. Teknik menggambar ragam hias dengan mengubah atau memisahkan bagian-bagian bentuk tetapi tidak meninggalkan kesatuan atau keselarasan disebut.....
- a. realis
  - b. deformasi
  - c. fauna
  - d. kreasi
18. Yang mempengaruhi motif ragam hias di Indonesia adalah.....
- a. Kpengalaman, alam benda
  - b. Lingkungan alam, flora, fauna dan manusia
  - c. pengamatan
  - d. alam benda, pengamatan
19. Motif hias merupakan bentuk yang dipola sehingga memberi kesan artistik, motif hias disebut juga.....
- a. tumpal
  - b. swastika
  - c. ornament
  - d. meander
20. Bagi sebagian masyarakat di Indonesia kegiatan menggambar ragam hias bertujuan untuk.....
- a. Memenuhi kebutuhan ekspresi
  - b. Mencari tambahan materi
  - c. Kepentingan sosial
  - d. Menghormati roh nenek moyang

## ESSAY

1. Sebutkan syarat-syarat menggambar bentuk yang baik ?
2. Sebutkan media yang digunakan untuk menggambar flora, fauna, dan alam benda ?
3. Jelaskan yang dimaksud dengan keseimbangan dan proporsi?
4. Jelaskan yang dimaksud ragam hias geometris ?
5. Apa yang dimaksud ragam hias fauna ?

MATA PELAJARAN : SHOROF

WAKTU : .....

HARI : .....

TANGGAL : .....

1. افاكه ارت داري كات "هم" ...  
أ. Saya  
ب. Kami  
ج. Mereka (lk)  
د. Mereka (pr)
2. افاكه ارت داري كات "انتم" ...  
أ. Engkau (lk)  
ب. Kami  
ج. Saya  
د. Engkau sekalian
3. افاكه ارت داري كات "انا" ...  
أ. Saya  
ب. Kami  
ج. Mereka (lk)  
د. Mereka (pr)
4. افاكه ارت داري كات "نحن" ...  
أ. Saya  
ب. Kami  
ج. Mereka (lk)  
د. Mereka (pr)
5. كات "جلسوا" تردافت ضمير...  
أ. انا  
ب. هم  
ج. هن  
د. نحن
6. كات "نصرتما" تردافت ضمير...  
أ. انا  
ب. هم  
ج. هن  
د. انتما
7. كات "ضربنا" تردافت ضمير...  
أ. انا  
ب. نحن  
ج. هن  
د. انتما
8. كات "ذهبتن" تردافت ضمير...  
أ. انا  
ب. هم  
ج. انتن  
د. انتما
9. كات "نكتب" تردافت ضمير...  
أ. انا  
ب. نحن  
ج. انتن  
د. انتما
10. كات "اكتب" تردافت ضمير...  
أ. انا  
ب. نحن  
ج. انتن  
د. انتما
11. مانكه يغ ترماسوك ضمير نصب منفصل؟  
أ. هوا  
ب. فعلت  
ج. اياي  
د. انا
12. مانكه يغ ترماسوك ضمير رفع منفصل؟  
أ. هوا  
ب. فعلت  
ج. اياي  
د. نصر
13. مانكه يغ ترماسوك ضمير رفع متصل؟  
أ. هوا  
ب. فعلت  
ج. اياي  
د. انا
14. مانكه يغ ترماسوك ضمير نصب متصل؟  
أ. هوا  
ب. فعلت  
ج. اياي  
د. يفعلان
15. مانكه يغ ترماسوك ضمير خفض متصل؟  
أ. كتابي  
ب. فعلت  
ج. اياي  
د. يفعلان
16. افاكه ارت داري كات "كتب" ...  
أ. Dia (lk) telah menulis  
ب. Dia (pr) telah menulis  
ج. Dia (lk) telah membaca  
د. Dia (pr) telah membaca
17. افاكه ارت داري كات "اقرأ" ...  
أ. Dia (lk) telah menulis  
ب. Dia (pr) sedang menulis  
ج. Saya telah membaca  
د. Saya sedang membaca
18. افاكه ارت داري كات "اجلس" ...  
أ. Bacalah!  
ب. Makanlah!  
ج. Duduklah!  
د. Diamlah!
19. جلس + ضمير "نحن" =  
أ. جلسا  
ب. جلستم  
ج. جلسن  
د. جلسنا
20. طلع + ضمير "هي" =  
أ. طلعا  
ب. طلعت  
ج. طلعن  
د. يطلع

MATA PELAJARAN : TAUHID  
HARI : .....

WAKTU : .....  
TANGGAL : .....

- |              |                                      |  |
|--------------|--------------------------------------|--|
| ج. binasa    | أ. ada tidak                         | 1. اذا برافكه ركن ايمان؟                     |
| د. berbilang | ب. sedia                             | أ. ۳   |
|              | ج. افكه ارتي "تعدد" ...              | ج. ۸   |
|              | د. 14                                | ب. ۵   |
| ج. binasa    | أ. ada tidak                         | 2. فرجي كفاد الله اداله ركن ايمان ك...       |
| د. berbilang | ب. sedia                             | أ. ۳   |
|              | ج. افكه ارتي "حدوث" ...              | ب. ۲   |
|              | د. 15                                | ج. ۱   |
| ج. binasa    | أ. ada tidak                         | 3. فرجي كفاد كتاب-كتاب اداله ركن ايمان ك...  |
| د. berbilang | ب. baharu                            | أ. ۳   |
|              | ج. افكه جملة ملائكة يغ واجب ديكتهوي؟ | ب. ۲   |
|              | د. 16                                | ج. ۱   |
|              | أ. ۱۳                                | د. ۴   |
|              | ب. ۱۵                                | 4. فرجي كفاد ملائكة اداله ركن ايمان ك...     |
|              | ج. 17                                | أ. ۳   |
|              | د. ۴۱                                | ب. ۲   |
|              | أ. جبريل                             | ج. ۱   |
|              | ب. ميكائل                            | د. ۴   |
|              | ج. 18                                | 5. فرجي كفاد هاري قيامه اداله ركن ايمان ك... |
|              | د. ۱۰                                | أ. ۳   |
|              | أ. جبريل                             | ب. ۵   |
|              | ب. ميكائل                            | ج. ۴   |
|              | ج. 19                                | 6. اذا برافكه صفة واجب باكي الله؟            |
|              | د. ۴۱                                | أ. ۱۱  |
|              | أ. جبريل                             | ب. ۱۲  |
|              | ب. ميكائل                            | ج. ۱۳  |
|              | ج. 20                                | د. ۱۴  |
|              | د. ۱                                 | 7. افكه ارتي "وجود" ...                      |
|              | أ. ۳                                 | أ. ada                                       |
|              | ب. ۲                                 | ب. sedia                                     |
|              | ج. 20                                | ج. افكه ارتي "بقاً" ...                      |
|              | د. ۴                                 | أ. ada                                       |
|              | أ. جبريل                             | ب. sedia                                     |
|              | ب. محمد                              | ج. افكه ارتي "وحدانية" ...                   |
|              | د. عيسى                              | أ. ada                                       |
|              |                                      | ب. sedia                                     |
|              |                                      | ج. افكه ارتي "قدم" ...                       |
|              |                                      | أ. ada                                       |
|              |                                      | ب. sedia                                     |
|              |                                      | ج. افكه صفة مستحيل باكي الله؟                |
|              |                                      | أ. ۱۱  |
|              |                                      | ب. ۱۲  |
|              |                                      | ج. افكه ارتي "عدم" ...                       |
|              |                                      | أ. ada tidak                                 |
|              |                                      | ب. sedia                                     |
|              |                                      | ج. افكه ارتي "فناً" ...                      |
|              |                                      | د. 13  |